

**CONCOURS EXTERNE  
DE CONTRÔLEUR DES FINANCES PUBLIQUES**

**ANNÉE 2013**

---

**ÉPREUVE ÉCRITE D'ADMISSIBILITÉ N° 2**

*Durée : 3 heures - Coefficient : 3*

---

**Le candidat traitera le présent sujet correspondant à l'option formulée dans son dossier d'inscription :**

- **Composition sur un ou plusieurs sujets donnés et/ou cas pratiques d'éléments d'économie**

---

*Toute note inférieure à 5/20 est éliminatoire.*

---

***Recommandations importantes***

*Le candidat trouvera au verso la manière de servir la copie dédiée.*

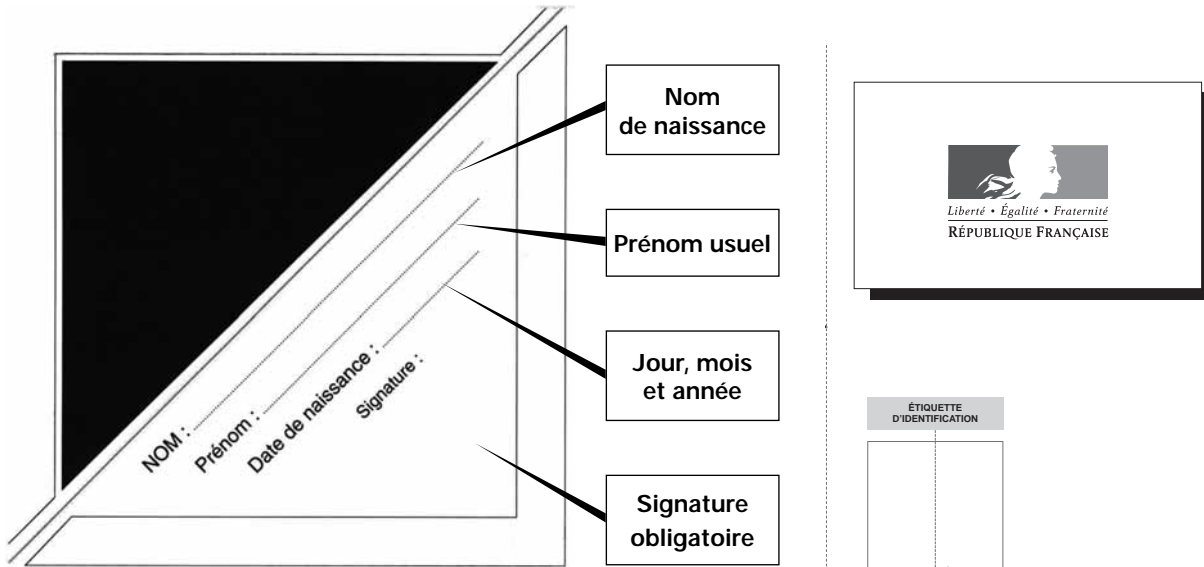
*Sous peine d'annulation de sa copie, le candidat ne doit porter aucun signe distinctif (nom, prénom, signature, numéro de candidature, etc.) en dehors du volet rabattable d'en-tête.*

*Il devra obligatoirement se conformer aux directives données.*



**Tournez la page S.V.P.**

**Le candidat devra compléter l'intérieur du volet rabattable des informations demandées et se conformer aux instructions données**



Après avoir servi l'en-tête, rabattre et coller le cache

Code centre d'examen

Concours : **externe**  
(interne ou externe)

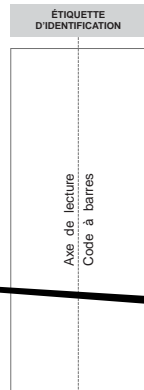
Pour l'emploi de : **Contrôleur des Finances publiques**  
de 2ème classe

Épreuve n° **2**

Matière : **Option : Économie**

Date **11 | 12 | 20 | 12**

Nombre d'intercalaires supplémentaires :



**Vérifier la codification du centre d'examen**

**Préciser éventuellement le nombre d'intercalaires supplémentaires**

**À L'ATTENTION DU CANDIDAT**

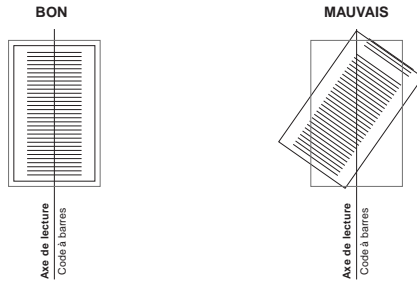
En dehors du cadre prévu à cet effet, il est interdit de signer sa copie ou de mettre un signe distinctif.

Les étiquettes d'identification ne doivent être détachées et collées dans les deux cadres prévus qu'en présence d'un membre de la commission de surveillance.

**POSITIONNEMENT DES ÉTIQUETTES**

Pour permettre la lecture optique de l'étiquette, le trait vertical matérialisant l'axe de lecture du code à barres doit traverser la totalité des barres de ce code.

**EXEMPLE**



NOTE/20

20	19	18	20	19	18
<input type="checkbox"/>	<input type="checkbox"/>	<input type="checkbox"/>	<input type="checkbox"/>	<input type="checkbox"/>	<input type="checkbox"/>
17	16	15	17	16	15
<input type="checkbox"/>	<input type="checkbox"/>	<input type="checkbox"/>	<input type="checkbox"/>	<input type="checkbox"/>	<input type="checkbox"/>
14	13	12	14	13	12
<input type="checkbox"/>	<input type="checkbox"/>	<input type="checkbox"/>	<input type="checkbox"/>	<input type="checkbox"/>	<input type="checkbox"/>
11	10	09	11	10	09
<input type="checkbox"/>	<input type="checkbox"/>	<input type="checkbox"/>	<input type="checkbox"/>	<input type="checkbox"/>	<input type="checkbox"/>
08	07	06	08	07	06
<input type="checkbox"/>	<input type="checkbox"/>	<input type="checkbox"/>	<input type="checkbox"/>	<input type="checkbox"/>	<input type="checkbox"/>
05	04	03	05	04	03
<input type="checkbox"/>	<input type="checkbox"/>	<input type="checkbox"/>	<input type="checkbox"/>	<input type="checkbox"/>	<input type="checkbox"/>
02	01	00	02	01	00
<input type="checkbox"/>	<input type="checkbox"/>	<input type="checkbox"/>	<input type="checkbox"/>	<input type="checkbox"/>	<input type="checkbox"/>
25	50	75	25	50	75
<input type="checkbox"/>	<input type="checkbox"/>	<input type="checkbox"/>	<input type="checkbox"/>	<input type="checkbox"/>	<input type="checkbox"/>

NOTE/20

Numéro du correcteur

Numéro de copie

Numéro de copie

**EN AUCUN CAS, LE CANDIDAT NE FERMERA LE VOLET RABATTABLE AVANT D'Y AVOIR ÉTÉ AUTORISÉ PAR LA COMMISSION DE SURVEILLANCE**

**SUJET**

**ÉCONOMIE**

Code matière : 048

Vous traiterez l'ensemble du sujet en vous appuyant sur vos connaissances personnelles.

**Première partie**

Commentez et analysez les deux documents suivants relatifs à la structure du chômage en France.

Tableau n°1

Taux de chômage selon le diplôme, le sexe et la durée écoulée depuis la sortie de formation initiale :

<b>en pourcentage</b>			
	<b>Année 2011</b>		
	<b>Sortis depuis 1 à 4 ans de formation initiale</b>	<b>Sortis depuis 5 à 10 ans de formation initiale</b>	<b>Sortis depuis 11 ans et plus de formation initiale</b>
Ensemble	19,1	11,4	7,2
Hommes	19,2	11,3	6,8
Femmes	19,0	11,6	7,7
Enseignement supérieur	9,4	5,2	4,1
dont :			
enseignement supérieur long (1)	9,3	5,2	4,2
enseignement supérieur court (2)	9,7	5,2	4,0
Bac, CAP-BEP et équivalents	22,1	13,1	6,5
dont :			
baccalauréat	18,4	11,2	5,7
CAP-BEP	27,5	15,9	6,9
Brevet, CEP et sans diplôme	45,7	29,5	11,9
(1) notamment licence, master, doctorat, écoles de commerce et d'ingénieur.			
(2) notamment DUT, BTS, Deug, diplômes paramédicaux et sociaux.			
Champ : actifs sortis de formation initiale en France métropolitaine depuis un an ou plus.			
Source : Insee, enquêtes Emploi.			

## Tableau n°2

Chômeurs et taux de chômage selon le sexe et la catégorie socioprofessionnelle en 2010 :

Catégorie socioprofessionnelle	2010		
	Femmes	Hommes	Ensemble
Taux de chômage (en pourcentage)			
Agriculteurs exploitants	1,4	0,5	0,8
Artisan, commerçant et chef d'entreprise	4,4	3,9	4,0
Cadre	4,4	3,7	4,0
Profession intermédiaire	4,7	5,2	4,9
Employé	9,8	8,5	9,5
Ouvrier	16,9	12,6	13,5
dont ouvrier non qualifié	19,6	19,6	19,6
Ensemble	9,7	9,0	9,4
Nombre de chômeurs (en milliers)			
Agriculteurs exploitants	2	2	4
Artisan, commerçant et chef d'entreprise	22	50	72
Cadre	77	100	177
Profession intermédiaire	157	167	324
Employé	618	162	781
Ouvrier	211	640	851
Ensemble	1 315	1 338	2 653
Note : données calées sur les estimations démographiques du début de l'année 2010.			
Champ : France métropolitaine, population des ménages, personnes de 15 ans ou plus (âge courant).			
Source : Insee, enquêtes Emploi.			

## Seconde partie

Quels sont les attributions et les objectifs d'une banque centrale ? Quelles sont les particularités de la Banque Centrale Européenne (BCE) ?

## Troisième partie

Répondez au sujet suivant :

Le retour à la croissance suffirait-il à résorber le chômage en France ?







