

**CONCOURS EXTERNE
DE CONTRÔLEUR DES FINANCES PUBLIQUES**

ANNÉE 2015

ÉPREUVE ÉCRITE D'ADMISSIBILITÉ N° 2

Durée : 3 heures - Coefficient : 3

Le candidat traitera le présent sujet correspondant à l'option formulée dans son dossier d'inscription :

- **Composition sur un ou plusieurs sujets donnés et/ou cas pratiques d'éléments d'économie**

Toute note inférieure à 5/20 est éliminatoire.

Recommandations importantes

Le candidat trouvera au verso la manière de servir la copie dédiée.

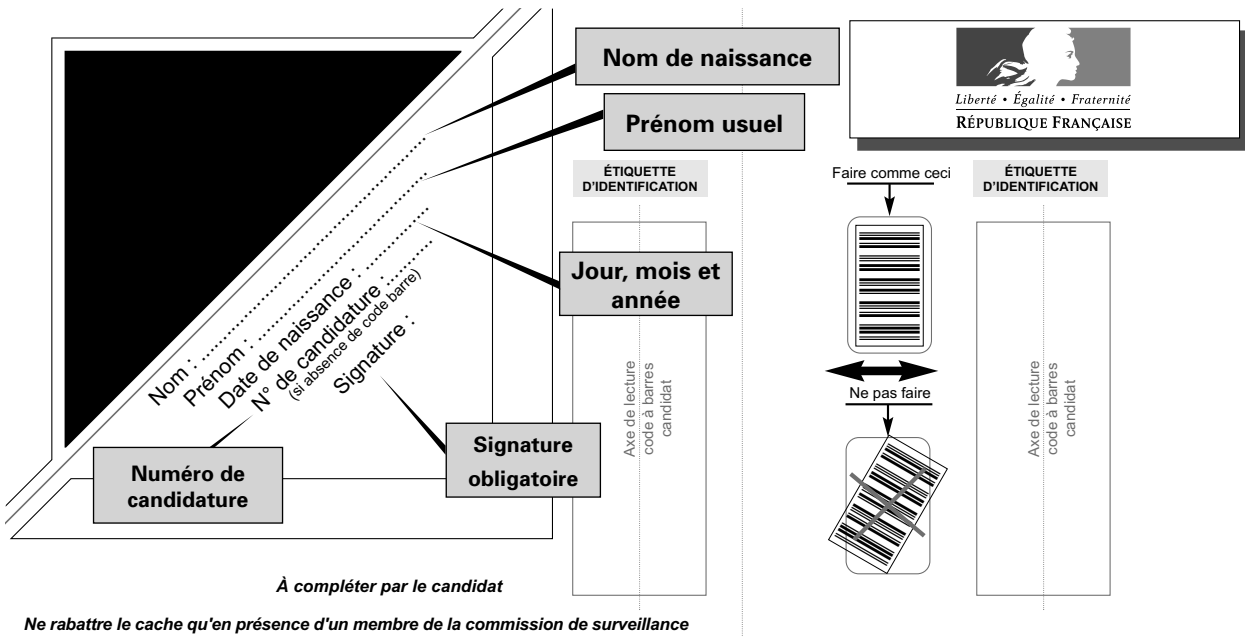
Sous peine d'annulation de sa copie, le candidat ne doit porter aucun signe distinctif (nom, prénom, signature, numéro de candidature, etc.) en dehors du volet rabattable d'en-tête.

Il devra obligatoirement se conformer aux directives données.



Tournez la page S.V.P.

Le candidat devra compléter l'intérieur du volet rabattable des informations demandées et se conformer aux instructions données



Concours externe - interne - professionnel - ou examen professionnel ⁽¹⁾

⁽¹⁾ Rayer les mentions inutiles

Externe

Pour l'emploi de : Contrôleur des Finances publiques

Épreuve n° : 2

Matière : 048 – Économie

Date : 0 9 1 2 2 0 1 4

Nombre d'intercalaires supplémentaires :

Préciser éventuellement le nombre d'intercalaires supplémentaires

À L'ATTENTION DU CANDIDAT

En dehors de la zone d'identification rabattable, les copies doivent être totalement anonymes et ne comporter aucun élément d'identification tel que nom, prénom, signature, paraphe, localisation, initiale, numéro, ou toute autre indication même fictive étrangère au traitement du sujet.

Il est demandé aux candidats d'écrire et de souligner si nécessaire au stylo bille, plume ou feutre, de couleur noire ou bleue uniquement. Une autre couleur pourrait être considérée comme un signe distinctif par le jury, auquel cas la note de zéro serait attribuée. De même, l'utilisation de crayon surligneur est interdite.

Les étiquettes d'identification codes à barres, destinées à permettre à l'administration d'identifier votre copie, ne doivent être détachées et collées dans les deux cadres prévus à cet effet qu'en présence d'un membre de la commission de surveillance.

Suivre les instructions données pour les étiquettes d'identification

NOTE / 20
 ,

RÉSERVÉ À L'ADMINISTRATION

À L'ATTENTION DU CORRECTEUR

**Pour remplir ce document :
Utilisez un stylo ou une pointe feutre de couleur NOIRE ou BLEUE.**

EXEMPLE DE MARQUAGE : Faire comme ceci Ne pas faire

Pour porter votre note, cochez les gélules correspondantes.

Reportez la note dans les zones **NOTE / 20** et dans le cadre **A**

En cas d'erreur de codification dans le report des notes cochez la case **erreur** et reportez la note dans le cadre **B**.

Cadre A réservé à la notation				Cadre B réservé à la notation rectificative			
20	19	18		20	19	18	
17	16	15		17	16	15	
14	13	12		14	13	12	
11	10	09		11	10	09	
08	07	06		08	07	06	
05	04	03		05	04	03	
02	01	00		02	01	00	
Décimales				Décimales			
<input type="checkbox"/>	<input type="checkbox"/>	<input type="checkbox"/>	<input type="checkbox"/>	<input type="checkbox"/>	<input type="checkbox"/>	<input type="checkbox"/>	<input type="checkbox"/>
,00	,25	,50	,75	,00	,25	,50	,75
				Erreur			
<input type="checkbox"/>	<input type="checkbox"/>	<input type="checkbox"/>	<input type="checkbox"/>	<input type="checkbox"/>	<input type="checkbox"/>	<input type="checkbox"/>	<input type="checkbox"/>

NOTE / 20
 ,

EN AUCUN CAS, LE CANDIDAT NE FERMERA LE VOLET RABATTABLE AVANT D'Y AVOIR ÉTÉ AUTORISÉ PAR LA COMMISSION DE SURVEILLANCE

SUJET


ÉCONOMIE

Vous traiterez l'ensemble du sujet en vous appuyant sur vos connaissances personnelles.

Première partie : Analyse de documents

Comparez et commentez le degré de mobilité de chacune des catégories mentionnées sur le schéma ci-dessous.

Schéma : La mondialisation en chiffres.

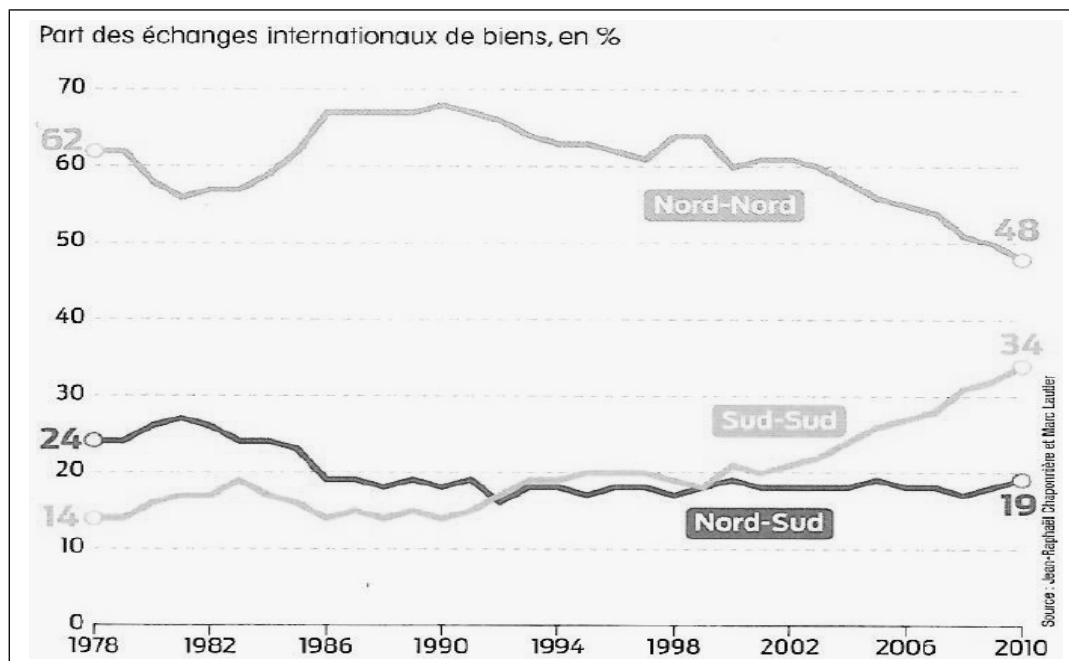


Source : Cnucead BRI Calculs Alternatives Economiques

NB : Nombre de résidents en dehors de leur pays d'origine (en % de la population mondiale), exportations mondiales, stocks d'IDE et transactions annuelles sur les marchés des changes (en % du PIB mondial 2013).

En vous appuyant sur le graphique ci-dessous, commentez l'évolution des courbes entre 1978 et 2010. Selon vous, quelle est la catégorie d'échanges la plus dynamique ?

Graphique : Part des échanges internationaux de biens, en %.



Source : Jean-Raphaël Chaponnière et Marc Lautier

Seconde partie : Questions de connaissances

Question n° 1

Définissez le concept de « croissance verte ».

Question n° 2

Donnez la définition de la mobilité sociale et commentez ses différentes formes.

Troisième partie : Dissertation

Vous répondrez de façon structurée au sujet suivant :

Quelles sont les composantes de l'économie informelle en France et comment la mesure t-on ?

